



बेरीज - २० पर्यंतची



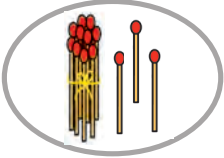

आपण लहान बेरजा शिकलो. आता आणखी बेरजा शिकू.

$$५ + ४ = ९$$




$$८ + ५ = \square$$

$$९० + ३ = ९३$$

$$९३ + २ = \square$$



गोष्ट बेरजेची

एकदा काय झाले, यश घरी गोष्टीची पुस्तके वाचत होता. बाबा घरी आले. यश पुस्तक वाचत आहे हे पाहून त्यांना खूप आनंद झाला. त्यांनी यशला जवळ घेतले. यश बाबांना म्हणाला, “बाबा, माझी सातही पुस्तके वाचून झाली.”

बाबा म्हणाले, “अरे व्वा! खूपच छान!”

बाबांनी खूश होऊन यशला आणखी चार पुस्तके दिली. यशला खूपच आनंद झाला. आता यशकडे किती पुस्तके झाली असतील बर ?

आता सांग

- १) यशकडे आधी किती पुस्तके होती ?
- २) बाबांनी यशला बक्षीस म्हणून किती पुस्तके दिली ?
- ३) यशकडे एकूण किती पुस्तके झाली ?