

नाणी - नोटा



१ रुपया



२ रुपये



५ रुपये



१० रुपये



एक रुपया



दोन रुपये



पाच रुपये



दहा रुपये



वीस रुपये

पाहिजे तेवढे रुपये कसे देता येतील ?

२ रुपये



४ रुपये



५ रुपये



१० रुपये



२० रुपये






विचार कर

एवढेच रुपये तू अजून कसे कसे देऊ शकशील ?



HL503T

पुढे दिलेल्या वस्तू खरेदी करण्यासाठी कोणकोणती नाणी किंवा नोटा देशील ?

वस्तू	वस्तूची किंमत	नाणी / नोटा
	३ रुपये	
	१२ रुपये	
	१८ रुपये	

नाणी बघून वस्तूची किंमत ठरव आणि लिही.

वस्तू	नाणी	वस्तूची किंमत
		
		
		

वाच आणि उत्तर लिही.

१) मेथीची एक जुडी १० रुपयाला मिळते. त्यासाठी ५ रुपयांची किती नाणी द्यावी लागतील ?

२) दोन रुपयांची ३ नाणी देऊन एक पेन्सिल घेतली, तर पेन्सिलची किंमत किती ?

३) १० रुपयांची मेणबत्ती व १ रुपयाची काडेपेटी घेतली, तर किती रुपये द्यावे लागतील ?

४) अजहरने १० रुपयांची एक नोट व १० रुपयांचे एक नाणे देऊन वही घेतली, तर वहीची किंमत किती ?