



चला, वजाबाकी शिकू.



यशकडे ३ जांभळे होती. २ जांभळे त्याने रमाला दिली. आता त्याच्याकडे किती जांभळे उरली?

$$\begin{array}{c} \text{○} \\ \text{○} \\ \text{○} \end{array} \quad \begin{array}{c} \text{○} \\ \text{○} \end{array} \quad \begin{array}{c} \text{○} \\ \text{○} \end{array}$$
$$3 - 2 = 1$$




आता हे चित्र पाहिले का?

नदीकाठावर पाच बेडूक बसले होते. एका बेडकाने पाण्यात टुणकन उडी मारली. आता काठावर किती बेडूक उरले ते मोज.

$$5 - 1 = \boxed{}$$

$$\begin{array}{r} 5 \\ - \\ 1 \\ \hline \end{array}$$



ही आपल्या मित्र-मैत्रिणींनी काढलेली चित्रे आहेत. त्यांची गोष्ट तू सांग. तू सुद्धा अशीच चित्रं काढून तुझ्या मित्र-मैत्रिणींना गोष्ट तयार करायला सांगशील का ?




एका संख्येतून दुसरी संख्या कमी करण्यासाठी, म्हणजेच वजाबाकी करण्यासाठी '–' हे चिन्ह वापरतात. ते 'वजा' असे वाचतात.




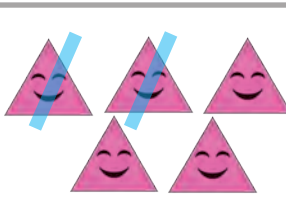
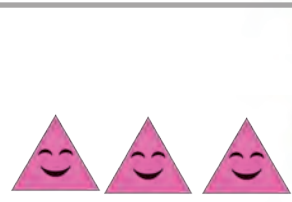
चित्रे बघ आणि चौकटी पूर्ण कर.

 →  → 




- =

 →  → 

- =

 →  → 

- =

 →  → 

- =



गोष्ट वड्यांची

आईने डब्यात ६ वड्या ठेवल्या. आई बाजारात भाजी आणायला गेली. रमा शाळेतून घरी आली. तिने डबा उघडून पाहिला. डब्यात तिला ६ वड्या दिसल्या. रमाच्या तोंडाला पाणी सुटले. तिने त्यांतील २ वड्या खाल्ल्या. घरी आल्यावर आईने डबा उघडला, तर त्यात चारच वड्या होत्या.

आई : रमा, तू २ वड्या खाल्ल्यास ?

रमा : आई, मी १ वडी खाल्ली.

आई : रमा, तू खरं बोलतीयेस ना ?

रमा : आई, मला वडी खूप आवडली म्हणून मी आणखी एक खाल्ली.

आई : शाब्बास ! रमा तू खरं सांगितलंस. ही घे तुला अजून १ वडी. ही एक वडी बाबांना दे. एक वडी आजीला दे आणि ही एक वडी मी खाते.

गोष्ट आवडली का ? आता सांग बरं,

- १) आईने डब्यात किती वड्या ठेवल्या होत्या ?
- २) रमाने किती वड्या खाल्ल्या ?
- ३) आईने रमाला खरे बोलण्याचे बक्षीस म्हणून किती वड्या दिल्या ?
- ४) रमाने आजी व बाबांना मिळून किती वड्या दिल्या ?
- ५) आईने स्वतःला किती वड्या घेतल्या ?
- ६) डब्यात शेवटी किती वड्या उरल्या ?

रिकाम्या चौकटीत योग्य संख्या लिही.

$$५ - ३ = \square$$

$$२ - १ = \square$$

८
- २

९
- ६

$$६ - \square = १$$

$$७ - ३ = \square$$

$$९ - \square = ९$$

$$\square - \square = ८$$



वाचा आणि सोडवा.

- नगमाकडे ५ बोरे होती. तिने ३ बोरे सलमाला दिली. आता नगमाकडे किती बोरे उरली ?

५
-
३
<input type="text"/>

नगमाकडची बोरे

सलमाला दिलेली बोरे

नगमाकडे उरलेली बोरे

- टोपलीत ९ सीताफळे होती. दादाने त्यांतील ६ सीताफळे मित्रांना खाण्यासाठी वाटली, तर टोपलीत किती सीताफळे शिल्लक राहिली ?

९
-
<input type="text"/>
<input type="text"/>

टोपलीतील सीताफळे

वाटलेली सीताफळे

शिल्लक सीताफळे

- समिराकडे ३ पेन्सिली होत्या. समिराने ९ पेन्सिल मैत्रिणीला दिली, तर समिराकडे किती पेन्सिली उरल्या ?

<input type="text"/>
<input type="text"/>
<input type="text"/>

समिराकडील पेन्सिली

मैत्रिणीला दिलेली पेन्सिल

उरलेल्या पेन्सिली

- डब्यात ४ लाडू होते. त्यांतील ९ लाडू बलबीरने खाल्ला, तर आता डब्यात किती लाडू उरले ?

<input type="text"/>
<input type="text"/>
<input type="text"/>

डब्यात असलेले लाडू

बलबीरने खाल्लेले लाडू

डब्यात शिल्लक लाडू



आपल्या सवंगड्यांच्या हातात असलेली वजाबाकी कर.

