

चला, बेरीज करूया !

हा माझा
ठोकळा



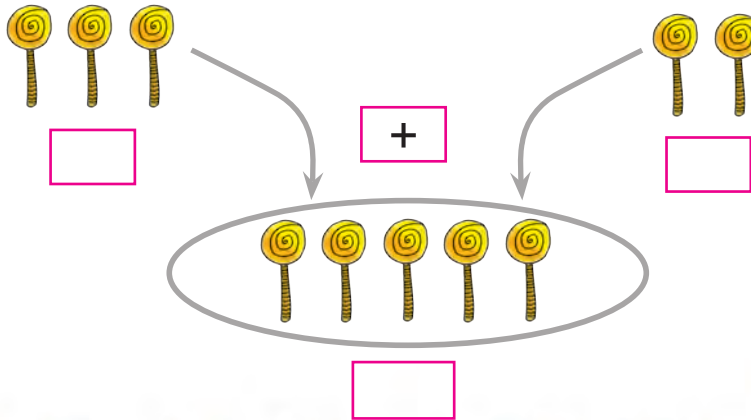
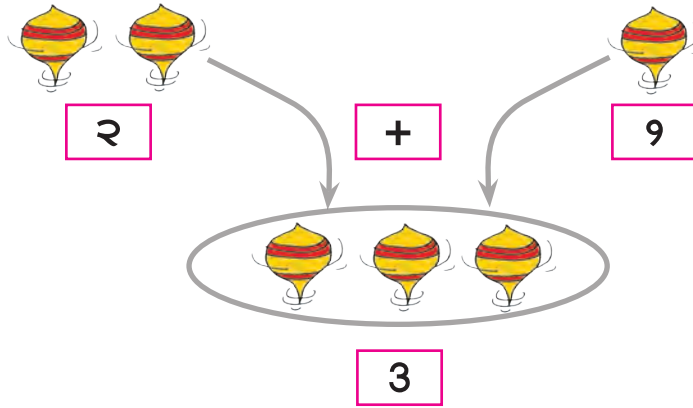
हा माझा

यश कडे ९ ठोकळा आहे.


रमाकडे ९ ठोकळा आहे.

दोघांचे मिळून ठोकळे झाले.

दोन संख्या मिळवण्यासाठी म्हणजेच त्यांची बेरीज करण्यासाठी + हे चिन्ह वापरतात. ते 'अधिक' असे वाचतात. = हे चिन्ह बरोबरी दाखवते. त्याचे वाचन 'बरोबर' असे आहे.



बेरीजगाडी बघा.



बेरीज दाखवण्यासाठी आणखी शब्द मिळतात का? उदाहरणार्थ : गोळा करणे,.....

.....

संख्येएवढे मणी काढ व बेरीज कर.

$$\boxed{} + \boxed{} = \boxed{}$$

$$३ + २ = \boxed{}$$

$$\boxed{}$$

चित्रे मोज आणि बेरीज कर.



$$\boxed{३} + \boxed{५} = \boxed{}$$

तीन अधिक पाच बरोबर आठ



$$\boxed{४} + \boxed{३} = \boxed{}$$



$$\boxed{५} + \boxed{४} = \boxed{}$$



$$\boxed{४} + \boxed{४} = \boxed{}$$

शून्य मिळवणे

बेरीज कर, संख्या लिही व योग्य चित्रे काढ.



२

+



०

=



२



३

+



०

=



१

+



०

=



५

+



=



चल, बेरजेचा सराव करु.

$$४ + १ = \boxed{}$$

$$३ + ५ = \boxed{}$$

+	६
	२
<hr/>	
<input type="text"/>	

+	७
	०
<hr/>	
<input type="text"/>	

$$५ + \boxed{} = ७$$

$$८ + \boxed{} = ९$$

$$२ + \boxed{} = ६$$

$$\boxed{} + \boxed{} = ८$$



वाचा आणि सोडवा.

- सलीलकडे ६ खडू आहेत. हमीदने त्याला अजून ३ खडू दिले, तर आता सलीलकडे एकूण किती खडू झाले ?

६	सलीलजवळचे खडू
+	हमीदने दिलेले खडू
३	
९	एकूण खडू

- केतनकडे ४ बदाम आणि नेहाकडे ४ बदाम आहेत, तर दोघांकडे मिळून किती बदाम होतील ?

४	केतनजवळील बदाम
+	नेहाजवळील बदाम
४	
	एकूण बदाम

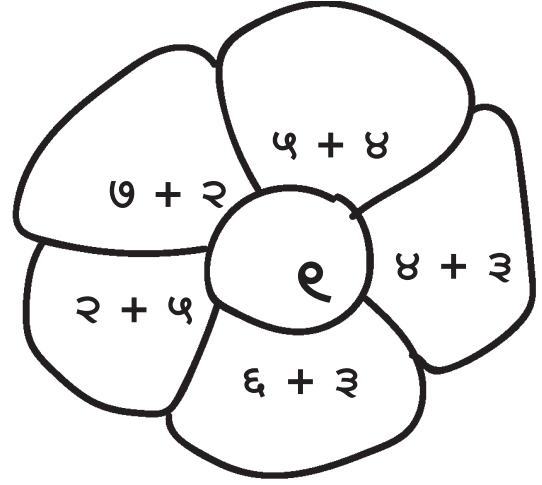
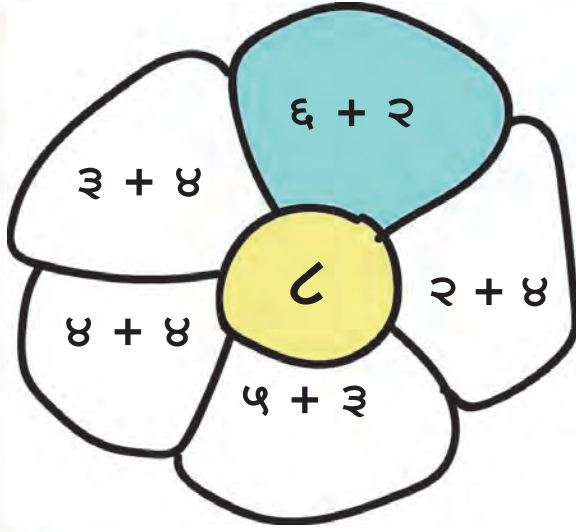
- जोसेफकडे ७ फुले आहेत आणि एंजलकडे २ फुले आहेत, तर दोघांकडे मिळून किती फुले होतील ?

	जोसेफकडील फुले
	एंजलकडील फुले
	एकूण फुले

- जियाकडे ५ मणी आहेत आणि परमीतकडे ३ मणी आहेत, तर दोघांकडे मिळून किती मणी आहेत ?

	जियाकडील मणी
	परमीतकडील मणी
	एकूण मणी

मधल्या गोलातील संख्येएवढे उत्तर येणाऱ्या पाकळ्या रंगव.



फुलपाखरावरील संख्यांची बेरीज करुन, ते योग्य फुलाला जोड.

