

# आओ, जोड़ें

यह मेरा  
गुटका

रमा के पास १ गुटका  
है।

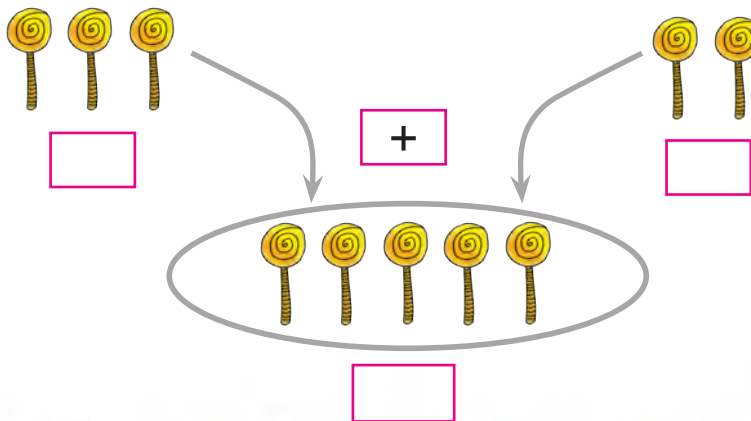
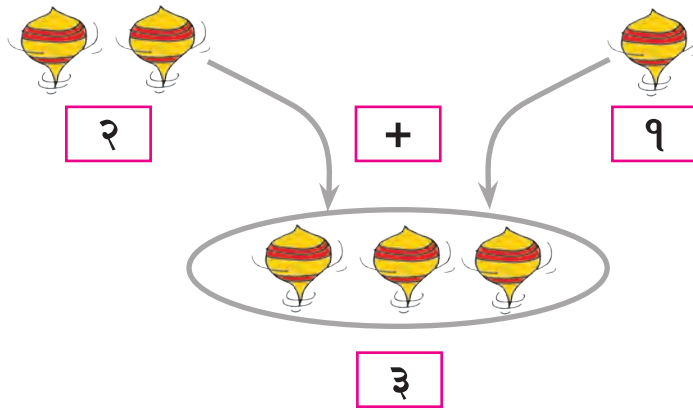


यह मेरा

यश के पास १ गुटका  
है।

दोनों के मिलकर  गुटके हुए।

दो संख्या मिलाने के लिए अर्थात् उनको जोड़ने के लिए + चिन्ह का उपयोग करते हैं। इसे 'धन' पढ़ते हैं। = यह चिन्ह बराबर दर्शाता है। इसका वाचन 'बराबर' करते हैं।



8SFQMV

## जोड़ गाड़ी देखो ।



जोड़ दिखाने के लिए और शब्द मिलते है क्या ? उदाहरण के लिए : इकट्ठा करना,

.....  
संख्या के बराबर मनके निकालो तथा जोड़ो ।

३	+	२		

चित्र गिनो और जोड़ो ।



३		५	=	
तीन	+	पाँच	बराबर	आठ



४		३	=	
---	--	---	---	--



५		४	=	
---	--	---	---	--



४		४	=	
---	--	---	---	--

## शून्य मिलाना

जोड़ो, संख्या लिखो तथा उचित चित्र बनाओ ।



२

+



०

=



२



३

+



०

=



१

+



०

=



५

+



=



आओ, जोड़ का अभ्यास करें ।

$$४ + १ = \boxed{\phantom{00}}$$

$$३ + ५ = \boxed{\phantom{00}}$$

६
+ २
<hr/>
<input type="text"/>

७
+ ०
<hr/>
<input type="text"/>

$$५ + \boxed{\phantom{00}} = ७$$

$$८ + \boxed{\phantom{00}} = ९$$

$$२ + \boxed{\phantom{00}} = ५$$

$$\boxed{\phantom{00}} + \boxed{\phantom{00}} = ८$$



## पढ़ो और हल करो ।

- सलिल के पास ६ चॉक है; हमीद ने उसे ३ चॉक और दिए, अब सलिल के पास कुल कितने चॉक हो गये ?

६	सलिल के पास चॉक	
+	३	हमीद के पास चॉक
<hr/>		
९	कुल चॉक	

- केतन के पास ४ बादाम और नेहा के पास ४ बादाम हैं, तो दोनों के पास कुल मिलाकर कितने बादाम होंगे ?

	४	केतन के पास बादाम
+	४	नेहा के पास बादाम
<hr/>		
		कुल बादाम

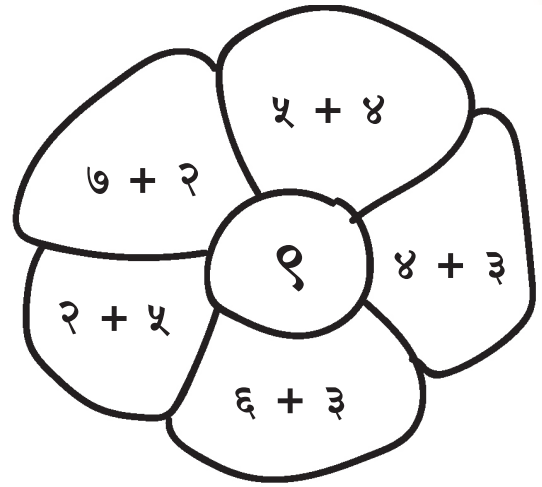
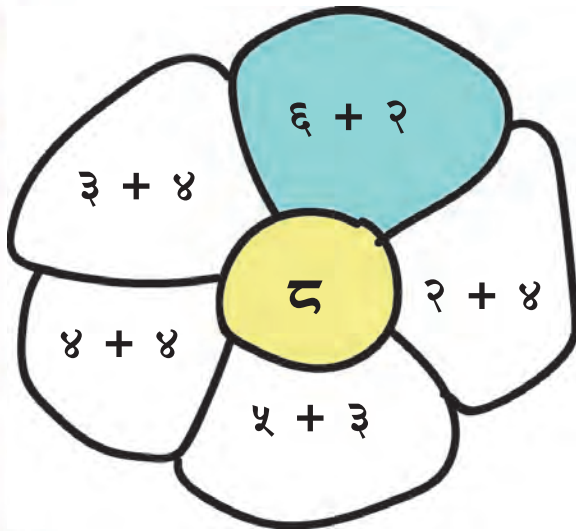
- जोसेफ के पास ७ फूल हैं और ऐंजल के पास २ फूल हैं तो दोनों के मिलाकर कुल कितने फूल होंगे ?

	जोसेफ के पास फूल
	ऐंजल के पास फूल
<hr/>	
	कुल फूल

- जिया के पास ५ मणी हैं और परमीत के पास ३ मणी हैं । दोनों के मिलाकर कितने मणी हैं ?

	जिया के पास मणी
	परमीत के पास मणी
<hr/>	
	कुल मणी

बीच के गोले की संख्या के बराबर उत्तर वाली पंखुड़ी को रंगो ।



तितली पर लिखी संख्याओं को जोड़कर, उसे उचित फूल से जोड़ो ।

